

らくしゅう式
学習型・脳機能訓練

計算編 I

ゆうゆう

らくしゅう式 学習型・脳機能訓練

ゆうゆう 計算編 Ⅰ

目次

			ページ量
ゆう計算 1+	～ゆう計算10+	・足し算12問	10p
ゆう計算11-	～ゆう計算15-	・引き算12問	5p
ゆう計算16+-	～ゆう計算20+-	・足し算 引き算12問	5p
ゆう計算21マス+	～ゆう計算25マス+	・マス計算足し算15問	5p
ゆう計算26マス-	～ゆう計算30マス-	・マス計算引き算12問	5p
ゆう計算31ピラミッド	～ゆう計算36ピラミッド	・足し算21問	6p
ゆう計算37	～ゆう計算42	・金額計算	6p
ゆう・かず43	～ゆう・かず48	・その他	6p
			<hr/> 48p

こえに出しながら、けいさんをしましょう。

$4 + 3 =$

$5 + 3 =$

$6 + 3 =$

$2 + 2 =$

$4 + 2 =$

$1 + 2 =$

$2 + 6 =$

$5 + 6 =$

$3 + 6 =$

$1 + 4 =$

$4 + 4 =$

$6 + 4 =$

こえに出しながら、けいさんをしましょう。

$3 + 5 =$

$2 + 5 =$

$6 + 5 =$

$7 + 1 =$

$5 + 1 =$

$4 + 1 =$

$2 + 6 =$

$1 + 6 =$

$3 + 6 =$

$2 + 4 =$

$4 + 4 =$

$5 + 4 =$

こえに出しながら、けいさんをしましょう。

$$2 + 5 =$$

$$7 + 5 =$$

$$6 + 5 =$$

$$3 + 2 =$$

$$4 + 2 =$$

$$5 + 2 =$$

$$6 + 4 =$$

$$5 + 4 =$$

$$4 + 4 =$$

$$8 + 3 =$$

$$5 + 3 =$$

$$6 + 3 =$$

こえに出しながら、けいさんをしましょう。

$3 + 8 =$

$2 + 8 =$

$4 + 8 =$

$6 + 2 =$

$7 + 2 =$

$3 + 2 =$

$9 + 1 =$

$4 + 1 =$

$6 + 1 =$

$5 + 3 =$

$2 + 3 =$

$3 + 3 =$

こえに出しながら、けいさんをしましょう。

$3 + 4 =$

$4 + 4 =$

$2 + 4 =$

$4 + 3 =$

$5 + 3 =$

$2 + 3 =$

$4 + 8 =$

$2 + 8 =$

$5 + 8 =$

$3 + 5 =$

$4 + 5 =$

$2 + 5 =$

こえに出しながら、けいさんをしましょう。

$7 + 3 =$

$6 + 3 =$

$4 + 3 =$

$5 + 2 =$

$3 + 2 =$

$6 + 2 =$

$10 + 4 =$

$4 + 4 =$

$2 + 4 =$

$1 + 5 =$

$4 + 5 =$

$6 + 5 =$

こえに出しながら、けいさんをしましょう。

$3 + 4 =$

$5 + 4 =$

$4 + 4 =$

$7 + 1 =$

$9 + 1 =$

$4 + 1 =$

$10 + 5 =$

$1 + 5 =$

$4 + 5 =$

$2 + 2 =$

$6 + 2 =$

$7 + 2 =$

こえに出しながら、けいさんをしましょう。

$6 + 2 =$

$5 + 2 =$

$7 + 2 =$

$3 + 5 =$

$5 + 5 =$

$8 + 5 =$

$3 + 7 =$

$4 + 7 =$

$1 + 7 =$

$6 + 4 =$

$4 + 4 =$

$2 + 4 =$

こえに出しながら、けいさんをしましょう。

$2 + 9 =$

$3 + 9 =$

$4 + 9 =$

$6 + 6 =$

$4 + 6 =$

$2 + 6 =$

$11 + 1 =$

$6 + 1 =$

$9 + 1 =$

$5 + 3 =$

$6 + 3 =$

$3 + 3 =$

こえに出しながら、けいさんをしましょう。

$6 + 1 =$

$8 + 1 =$

$3 + 1 =$

$10 + 3 =$

$8 + 3 =$

$6 + 3 =$

$3 + 5 =$

$6 + 5 =$

$5 + 5 =$

$3 + 7 =$

$2 + 7 =$

$5 + 7 =$

こえに出しながら、けいさんをしましょう。

$$9 - 6 =$$

$$10 - 6 =$$

$$7 - 6 =$$

$$7 - 2 =$$

$$6 - 2 =$$

$$3 - 2 =$$

$$5 - 3 =$$

$$6 - 3 =$$

$$4 - 3 =$$

$$10 - 8 =$$

$$8 - 8 =$$

$$11 - 8 =$$

こえに出しながら、けいさんをしましょう。

$$6 - 5 =$$

$$8 - 5 =$$

$$9 - 5 =$$

$$6 - 1 =$$

$$4 - 1 =$$

$$2 - 1 =$$

$$7 - 3 =$$

$$3 - 3 =$$

$$5 - 3 =$$

$$9 - 8 =$$

$$11 - 8 =$$

$$8 - 8 =$$

こえに出しながら、けいさんをしましょう。

$$6 - 2 =$$

$$3 - 2 =$$

$$8 - 2 =$$

$$7 - 4 =$$

$$5 - 4 =$$

$$9 - 4 =$$

$$7 - 6 =$$

$$8 - 6 =$$

$$10 - 6 =$$

$$6 - 3 =$$

$$8 - 3 =$$

$$4 - 3 =$$

こえに出しながら、けいさんをしましょう。

$$9 - 8 =$$

$$8 - 8 =$$

$$11 - 8 =$$

$$8 - 6 =$$

$$9 - 6 =$$

$$6 - 6 =$$

$$2 - 1 =$$

$$8 - 1 =$$

$$7 - 1 =$$

$$5 - 5 =$$

$$6 - 5 =$$

$$9 - 5 =$$

こえに出しながら、けいさんをしましょう。

$$6 - 4 =$$

$$7 - 4 =$$

$$5 - 4 =$$

$$9 - 2 =$$

$$3 - 2 =$$

$$4 - 2 =$$

$$8 - 6 =$$

$$6 - 6 =$$

$$7 - 6 =$$

$$5 - 3 =$$

$$4 - 3 =$$

$$6 - 3 =$$

こえに出しながら、けいさんをしましょう。

$6 + 3 =$

$5 + 3 =$

$4 + 3 =$

$8 + 6 =$

$5 + 6 =$

$2 + 6 =$

$5 - 5 =$

$9 - 5 =$

$7 - 5 =$

$9 - 7 =$

$7 - 7 =$

$10 - 7 =$

こえに出しながら、けいさんをしましょう。

$2 + 4 =$

$4 + 4 =$

$1 + 4 =$

$6 + 2 =$

$5 + 2 =$

$7 + 2 =$

$9 - 7 =$

$10 - 7 =$

$8 - 7 =$

$4 - 3 =$

$5 - 3 =$

$6 - 3 =$

こえに出しながら、けいさんをしましょう。

$$8 + 1 =$$

$$5 + 1 =$$

$$6 + 1 =$$

$$2 + 3 =$$

$$4 + 3 =$$

$$7 + 3 =$$

$$9 - 5 =$$

$$6 - 5 =$$

$$7 - 5 =$$

$$5 - 4 =$$

$$8 - 4 =$$

$$10 - 4 =$$

こえに出しながら、けいさんをしましょう。

$$5 + 2 =$$

$$7 + 2 =$$

$$3 + 2 =$$

$$6 + 6 =$$

$$4 + 6 =$$

$$1 + 6 =$$

$$4 - 1 =$$

$$7 - 1 =$$

$$3 - 1 =$$

$$7 - 3 =$$

$$5 - 3 =$$

$$9 - 3 =$$

こえに出しながら、けいさんをしましょう。

$5 + 3 =$

$6 + 3 =$

$2 + 3 =$

$1 + 2 =$

$5 + 2 =$

$4 + 2 =$

$8 - 5 =$

$6 - 5 =$

$7 - 5 =$

$4 - 4 =$

$6 - 4 =$

$7 - 4 =$

こえに出しながら、けいさんをしましょう。
よこに ならんだ すうじと たてに ならんだ すうじを たして
マスに かきいれます。

+	4	6	9	3	7
3	(れい) 7				
1					
2					

こえに出しながら、けいさんをしましょう。
よこに ならんだ すうじと たてに ならんだ すうじを たして
マスに かきいれます。

+	6	5	2	7	4
5	(れい) 11				
3					
1					

こえに出しながら、けいさんをしましょう。
よこに ならんだ すうじと たてに ならんだ すうじを たして
マスに かきいれます。

+	1	4	8	5	3
6	(れい) 7				
4					
5					

こえに出しながら、けいさんをしましょう。
よこに ならんだ すうじと たてに ならんだ すうじを たして
マスに かきいれます。

+	1	3	5	4	7
4	(れい) 5				
3					
5					

こえに出しながら、けいさんをしましょう。
よこに ならんだ すうじと たてに ならんだ すうじを たして
マスに かきいれます。

+	7	4	2	1	5
3	(れい) 10				
5					
6					

こえに出しながら、けいさんをしましょう。
よこにならんだすうじと たてにならんだすうじをみて
おおきいかずから ちいさいかずを ひきます。

—	8	2	6	1
4	(れい) 4			
3				
5				

こえに出しながら、けいさんをしましょう。
よこにならんだすうじと たてにならんだすうじをみて
おおきいかずから ちいさいかずを ひきます。

—	2	5	8	7
5	(れい) 3			
6				
3				

こえに出しながら、けいさんをしましょう。
よこにならんだ すうじと たてにならんだ すうじを みて
おおきいかずから ちいさいかずを ひきます。

—	1	9	5	3
6	(れい) 5			
8				
4				

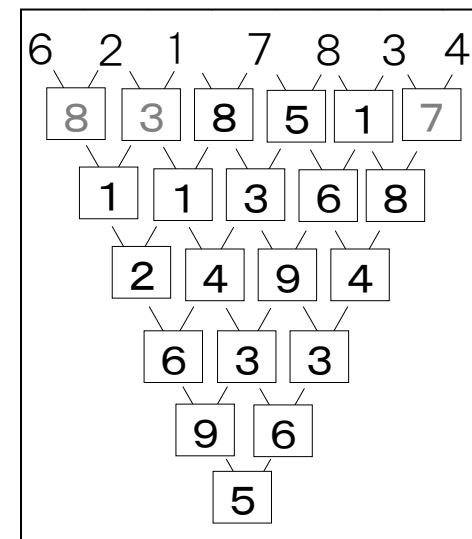
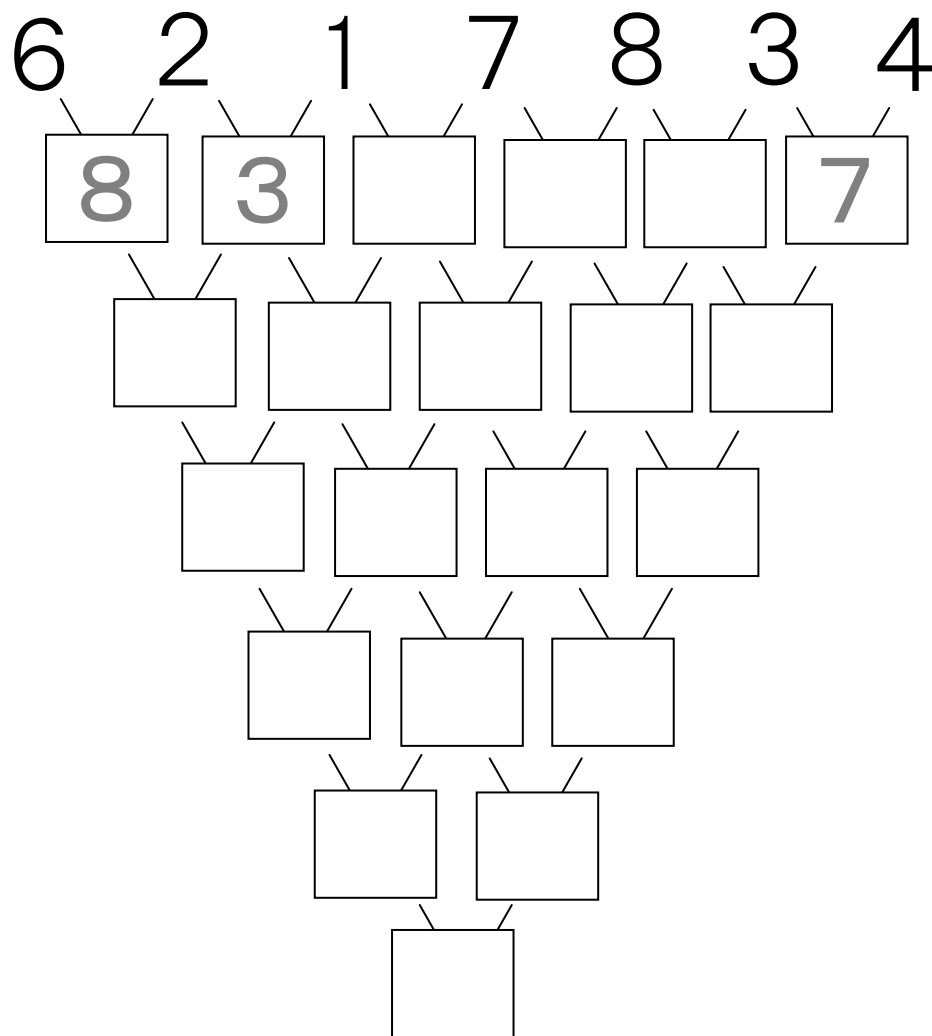
こえに出しながら、けいさんをしましょう。
よこにならんだすうじと たてにならんだすうじをみて
おおきいかずから ちいさいかずを ひきます。

—	5	2	4	8
7	(れい) 2			
4				
3				

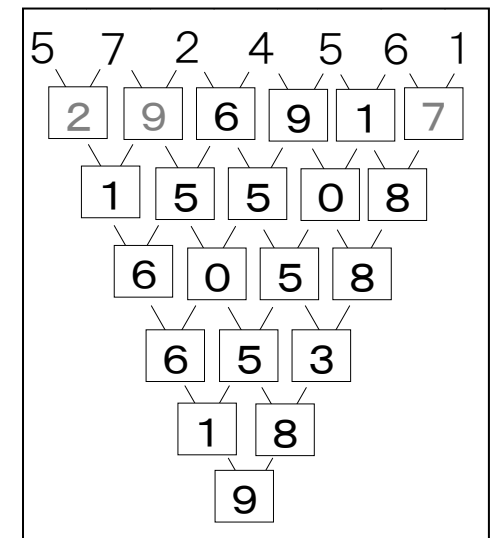
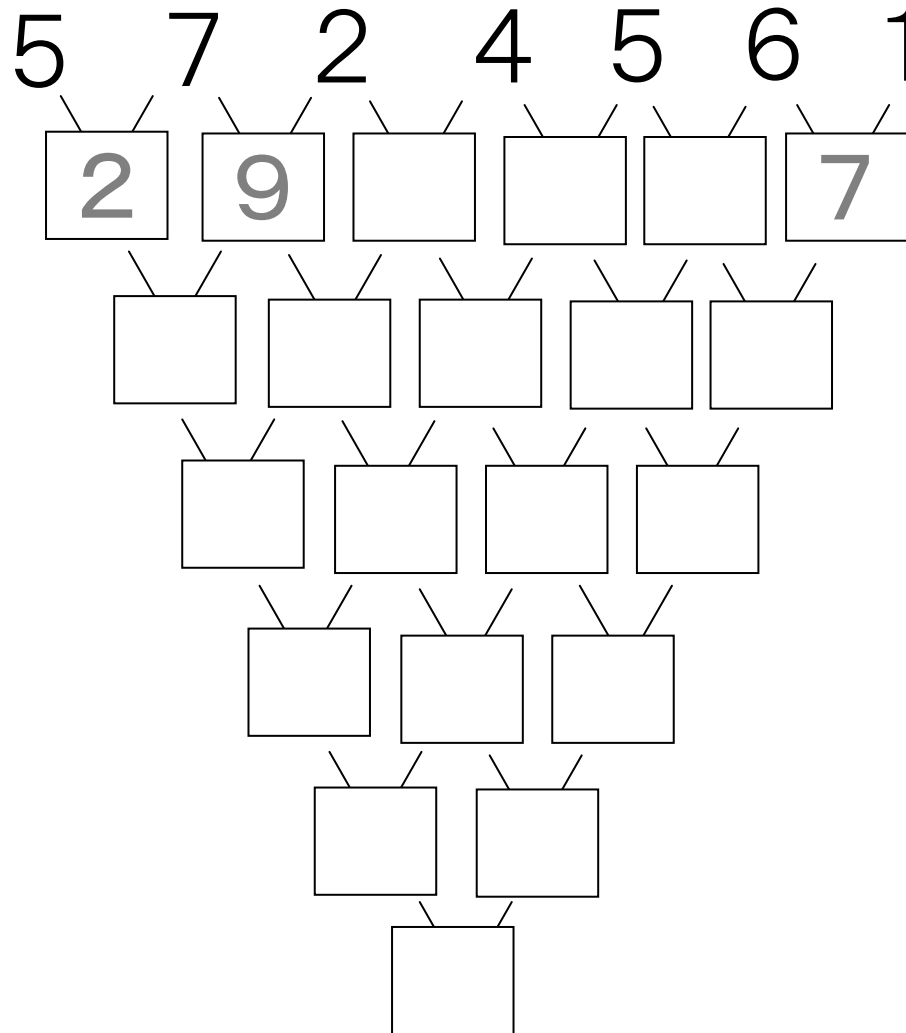
こえに出しながら、けいさんをしましょう。
よこにならんだすうじと たてにならんだすうじをみて
おおきいかずから ちいさいかずを ひきます。

—	6	2	8	1
9	(れい) 3			
7				
3				

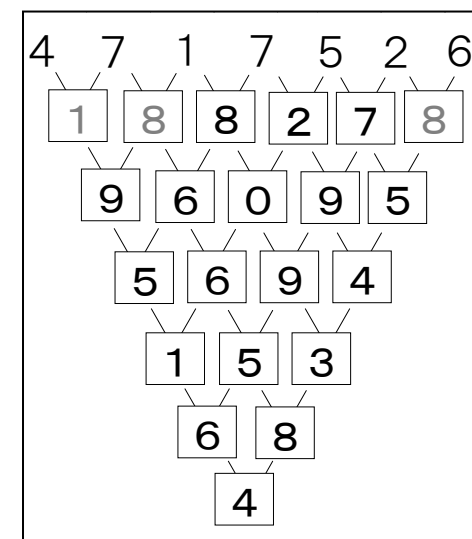
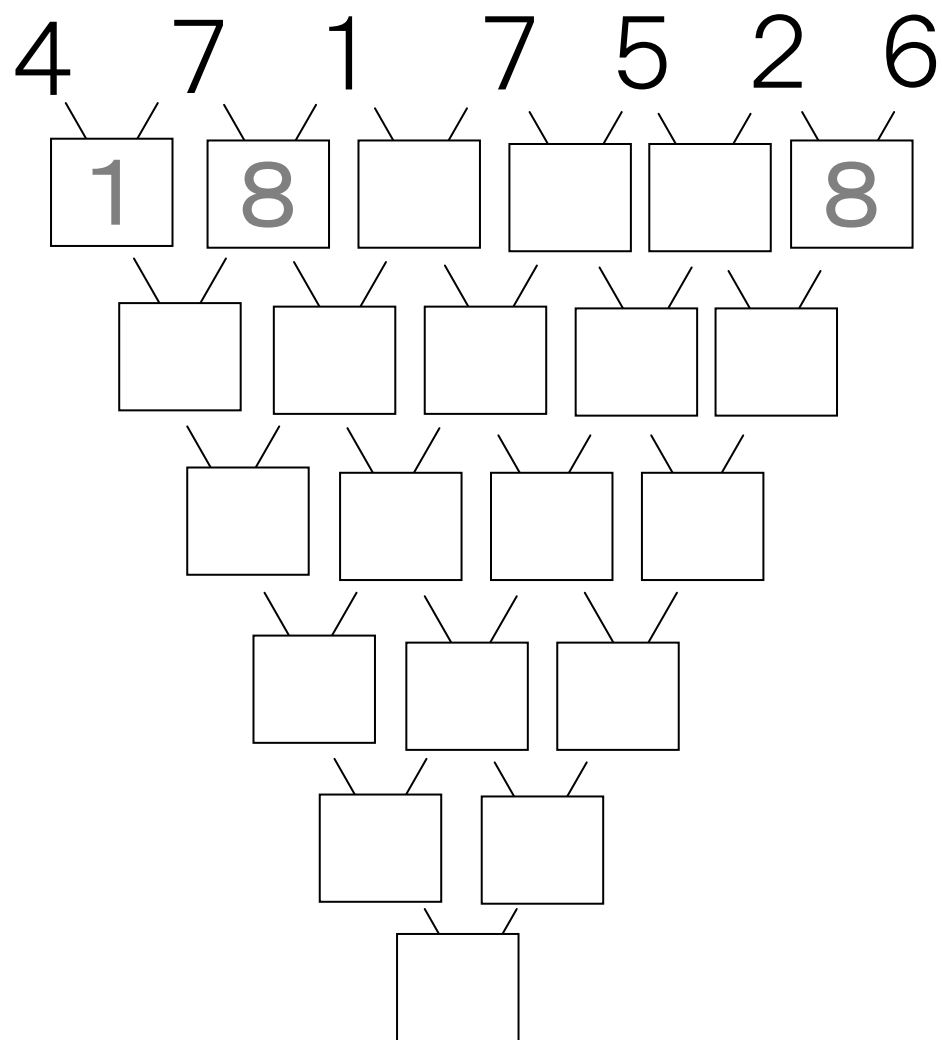
こえに出しながら、けいさんをしましょう。
 こたえの一のくらいの かずだけを かいてきます。



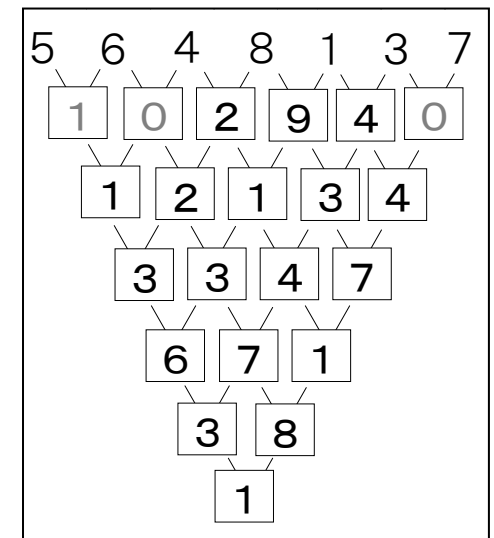
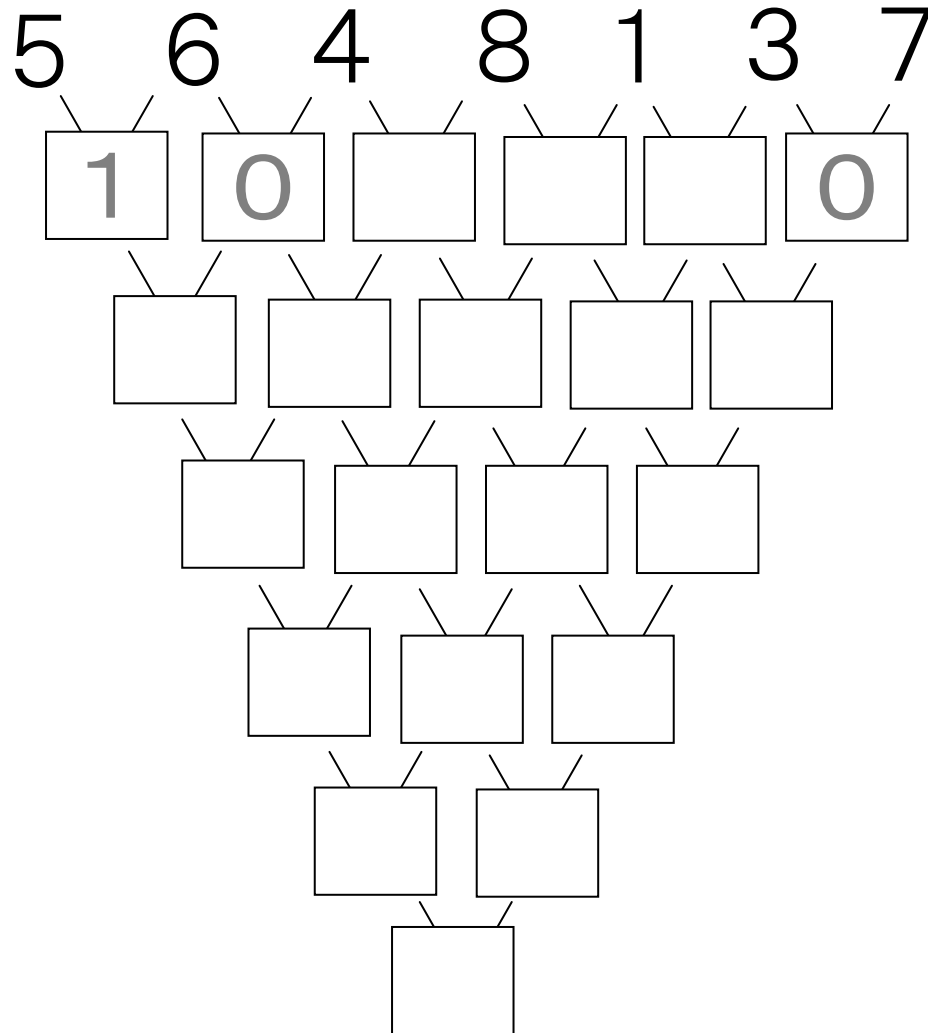
こえに出しながら、けいさんをしましょう。
 こたえの一のくらいの かずだけを かいてきます。



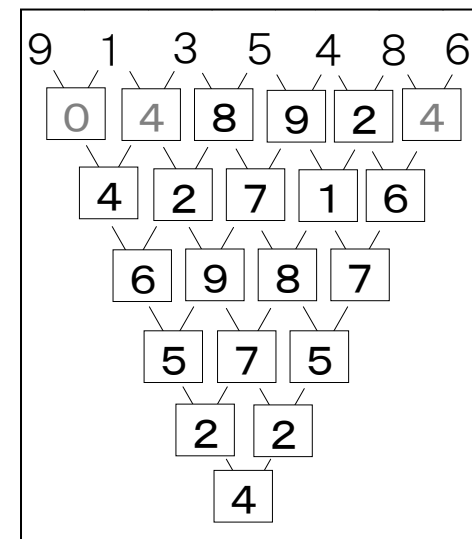
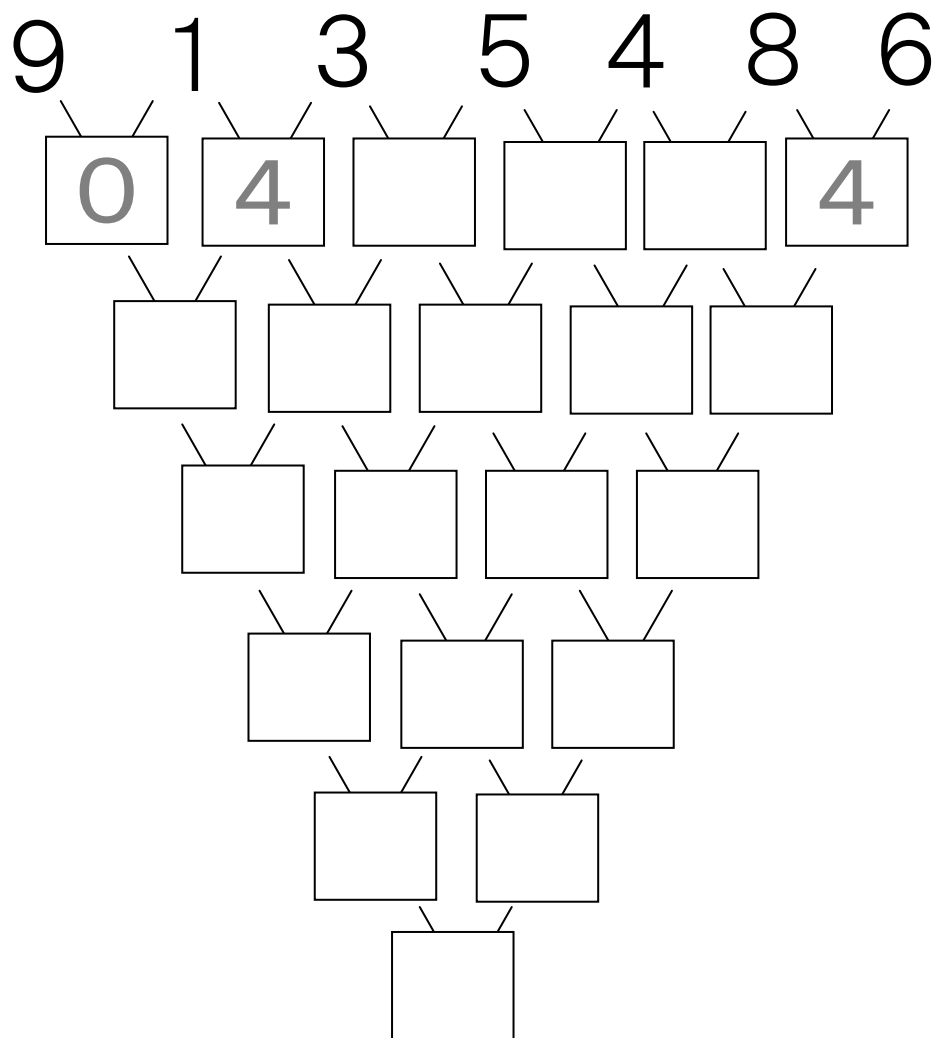
こえに出しながら、けいさんをしましょう。
 こたえの一のくらいの かずだけを かいてきます。



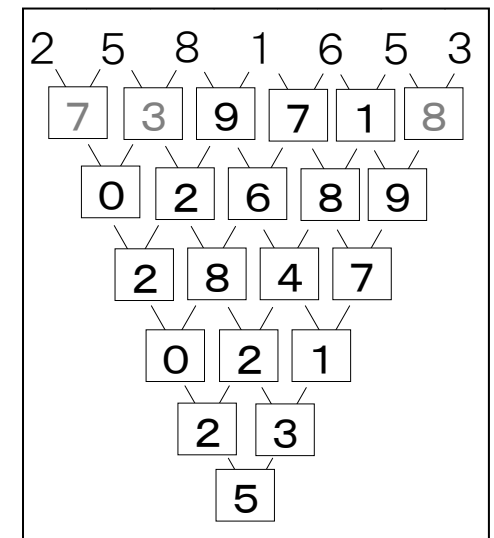
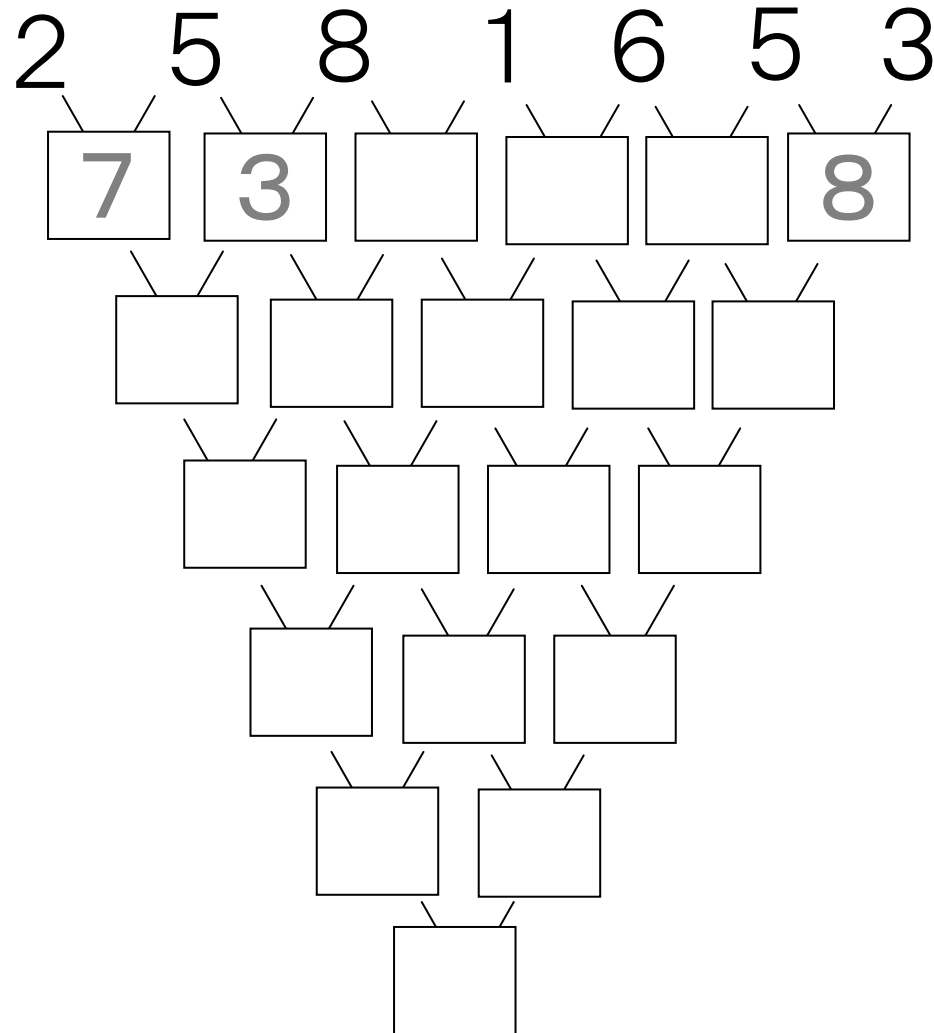
こえに出しながら、けいさんをしましょう。
 こたえの一のくらいの かずだけを かいてきます。



こえに出しながら、けいさんをしましょう。
 こたえの一のくらいの かずだけを かいてきます。



こえに出しながら、けいさんをしましょう。
 こたえの一のくらいの かずだけを かいてきます。



ゆう計算37

前頭
前野

頭頂
葉


後頭
葉

なまえ

月

日

□のなかの おかねを けいさんをしましょう。



()まい ()まい ()まい ()まい ()まい

金額

円

772円

ゆう計算38

前頭
前野

頭頂
葉

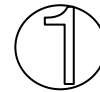
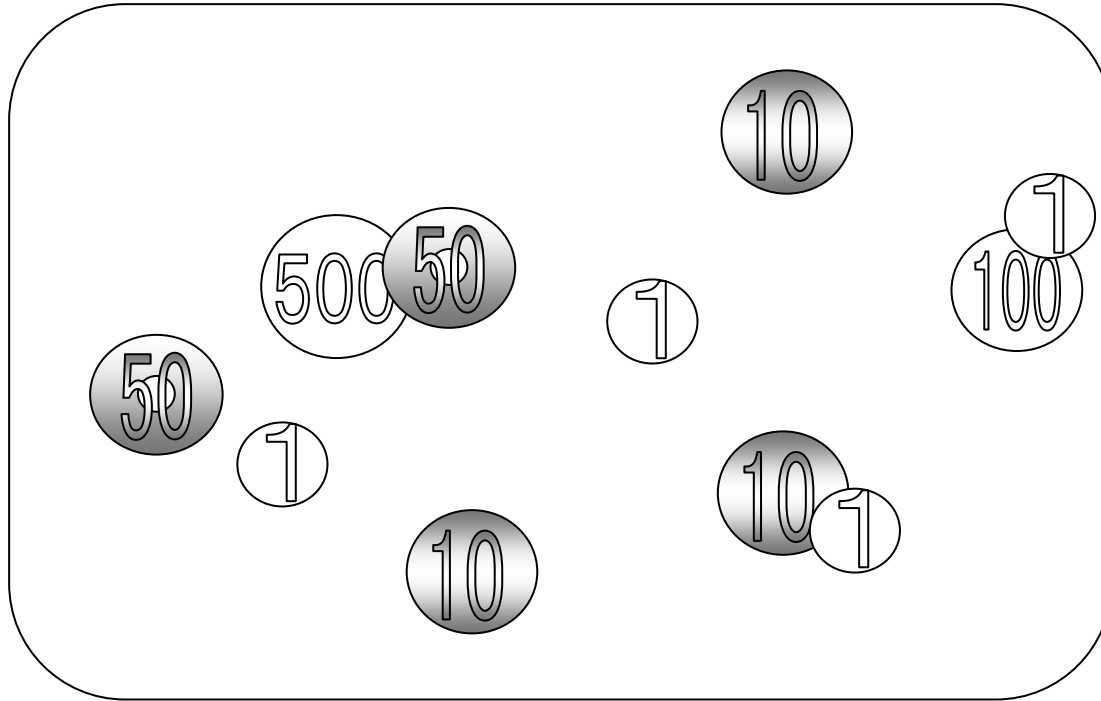
後頭
葉

なまえ

月

日

□のなかの おかねを けいさんをしましょう。



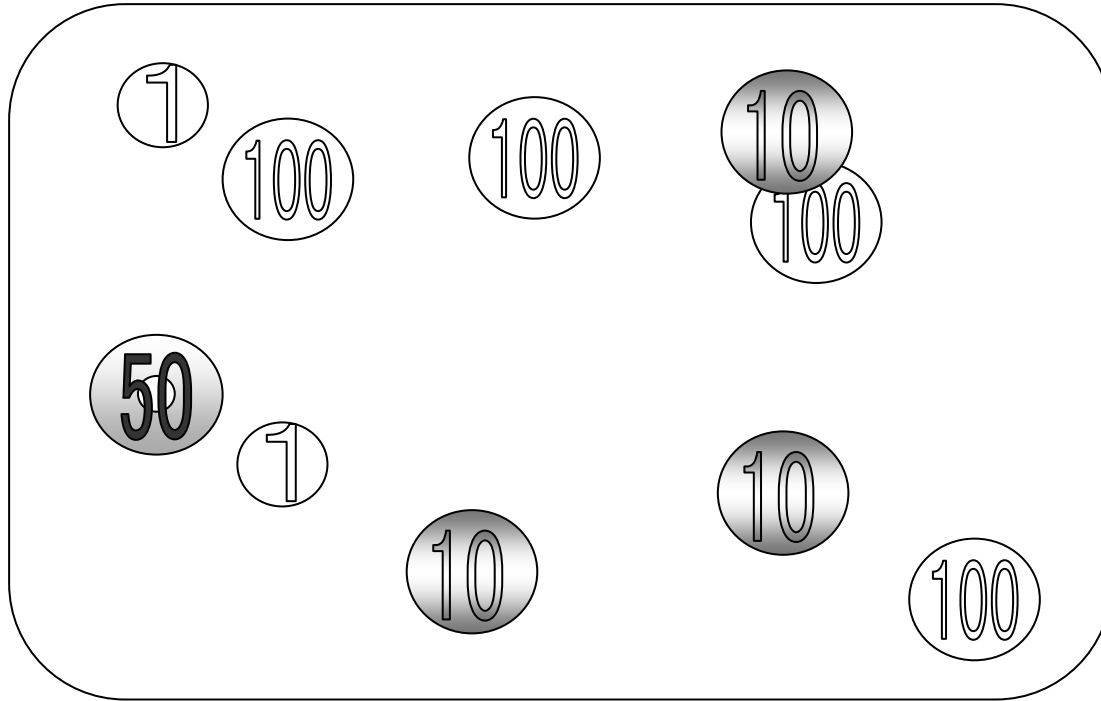
()まい ()まい ()まい ()まい ()まい

金額

円

734円

□のなかの おかねを けいさんをしましょう。



()まい ()まい ()まい ()まい ()まい

金額

	円
--	---

482円

ゆう計算40

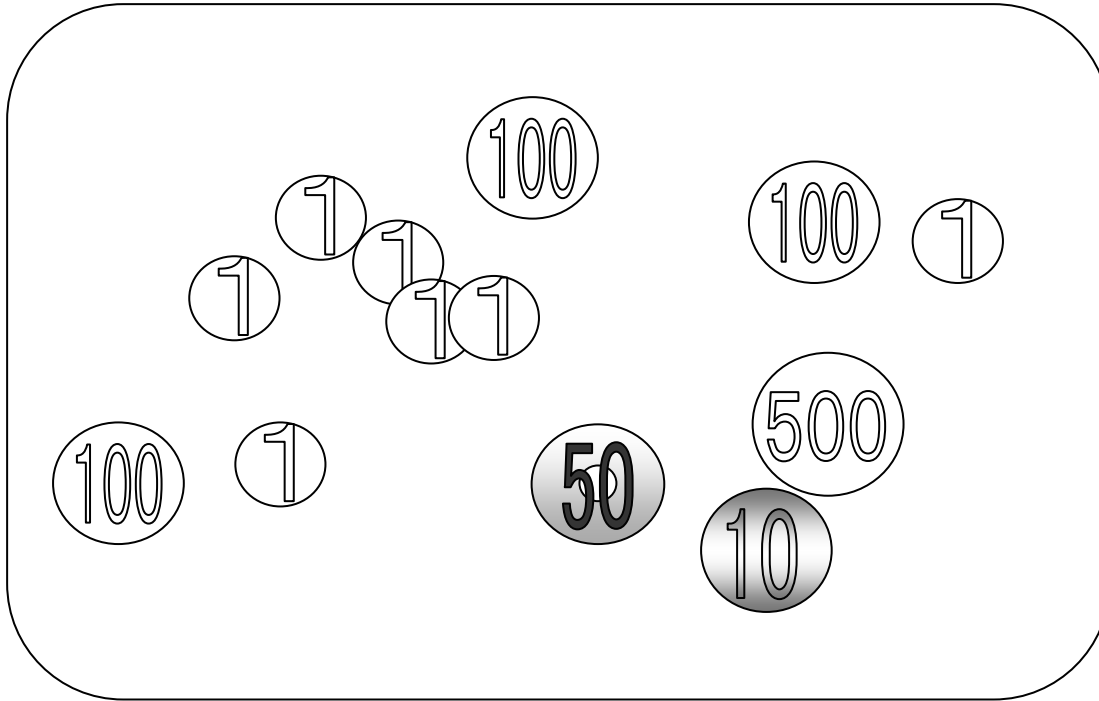
前頭前野 頭頂葉 後頭葉

なまえ

月

日

□のなかの おかねを けいさんをしましょう。



()まい ()まい ()まい ()まい ()まい

金額

円

867円

ゆう計算41


前頭前野 頭頂葉 後頭葉

なまえ

月

日

□のなかの おかねを けいさんをしましょう。



()まい ()まい ()まい ()まい ()まい

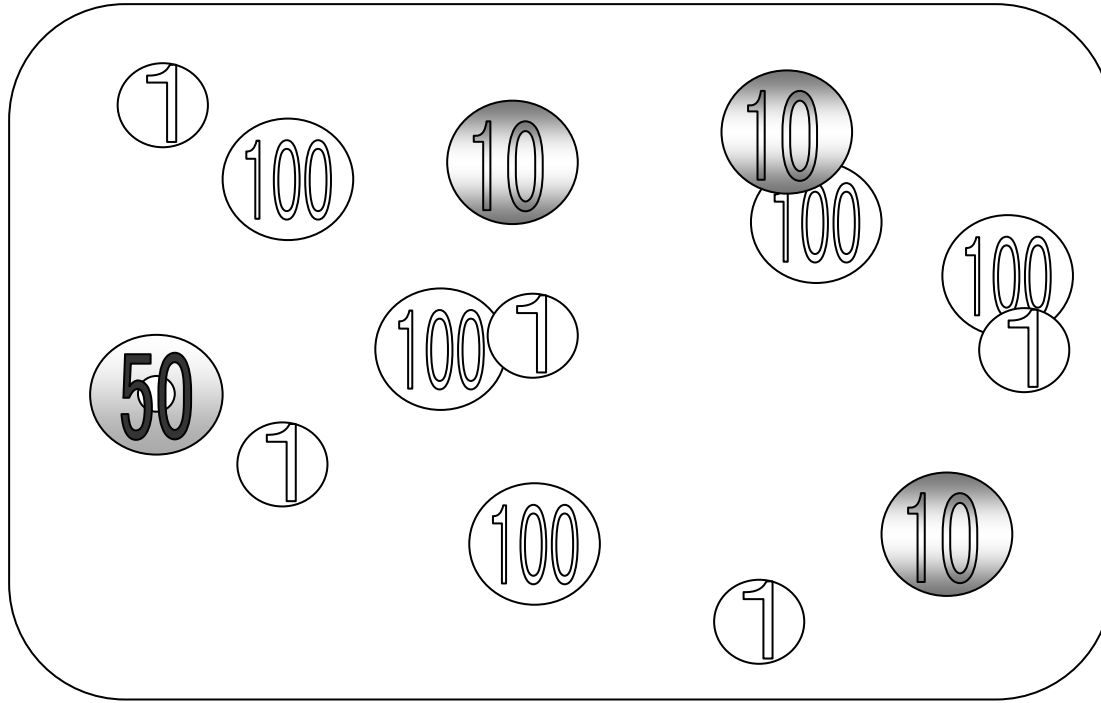
金額

Amount input box

円

746円

□のなかの おかねを けいさんをしましょう。



()まい ()まい ()まい ()まい ()まい

金額

円

585円

1から25まで ゆびでさしながら できるだけ速く、数字を かぞえましょう。

ゴール!

25

11

18

3

7

24

6

17

14

5

23

2

13

スタート

15

16

1

12

22

9

21

19


20

10


8

4


1から30まで ゆびでさしながら すうじを かぞえましょう。



☆を4つつ、○で囲んでいきましょう。
○は全部で 何こになったでしょう。



大きい☆1つと小さい☆2つを ○で囲んでいきましょう。
○は全部で 何こになったでしょう。



数字と 同じかずだけ 右の枠内に○や×、△をかきましょう。

5	×	
3	○	
7	×	
4	△	
6	○	

数字と 同じかずだけ 右の枠内に○や×、△をかきましょう。

2	×	
5	○	
4	□	
8	△	
3	○	

計算編 I

らくしゅう式
学習型・脳機能訓練

